




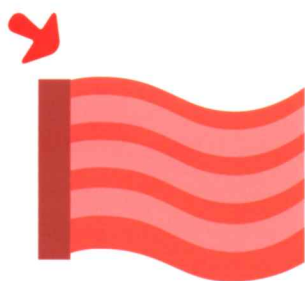


# 1 分类&比较

大旗子配长旗杆,小旗子配短旗杆,  
为旗子找到合适的旗杆吧!



勋章  
粘贴处



按照从长到短的顺序,给下列毛线团排个序吧!最长的排1。



2

## 分类&amp;比较

小Q把六杯水都喝了一口,你知道哪杯水被喝得最多吗?把杯子排序,喝得最多的排1。



1

2

3

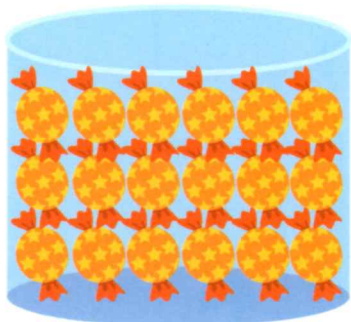
4

5

6

勋章  
粘贴处


按照糖果从多到少的顺序,将玻璃瓶排序吧!最多的排1。




( )




( )



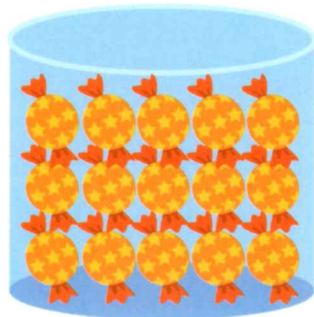
( )



( )



( )




( )

3

## 分类&amp;比较


观察每组小伙伴和小动物，把它们按从轻到重排列吧！每组最轻的排1哦！



1

2

3



1

2

3

勋章  
粘贴处

找出每组重量排第二的图片吧!在对应图片的括号里打√哦!



( )



( )



( )



( )



( )



( )

4

## 分类&amp;比较

六杯热水里放入大小不同的冰块, 哪杯水凉得最快? 将它们排序吧, 最快的排1。



1

2

3






4

5

6


勋章  
粘贴处

往下图每个水杯里放一块砂糖，哪杯水是最甜的呢？  
按照甜度排序吧！最甜的排1。






( ) ( ) ( ) ( ) ( )

右边这些杯子里的饮料，倒进左边哪个杯子就可以变成一整杯呢？快来试一试吧！



勋章  
粘贴处

五个相同水位的杯子,放入大小不同的石头,水位  
会怎么变化呢?按水位从低到高排序吧,最低的排1。



( ) ( )

( ) ( )

( ) ( )

( ) ( )

( ) ( )

6

## 分类&amp;比较

小伙伴们在进行游泳和跑步比赛，他们谁的速度最快？给他们按名次分奖牌吧！



勋章  
粘贴处

三个伙伴进行摔跤比赛,你知道谁是最厉害的吗?  
在括号里写出他们的名次吧!



( )



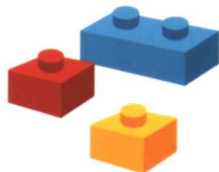


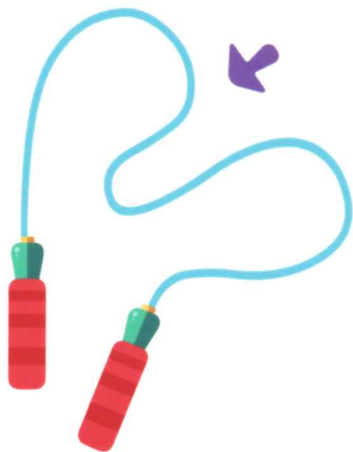
( )



( )

# 7 分类&比较

在右边找出图中物品的同类吧!



勋章  
粘贴处


在右边找出和左边有联系的物品吧!把它们连线。



8




## 分类&amp;比较

每组中哪个不属于这一类，  
在右边把它找出来吧！






勋章  
粘贴处

下面各行的4个物品中,有一个与其他三个不是同类,  
用笔把它圈出来。




在右边找出和左边意义相反的图吧!





勋章  
粘贴处

找一找右边的图片和左边的哪张图互为相反含义，  
把它们连起来吧！



# 10 分类&比较

图中的事物看起来不一样,其实是有  
关联的。找一找它们之间的联系吧!



勋章  
粘贴处







在右边找一找和左边物件相关联的物品吧!



1

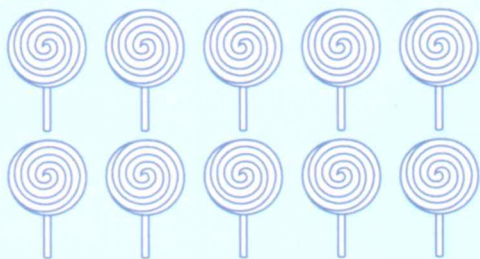
# 数字&数量

按照淘淘和小Q身上的数字，  
在右边找到对应数量的香肠吧！




勋章  
粘贴处


请根据每组图下方的数字，把相应数量的物品涂上漂亮的颜色吧！




5



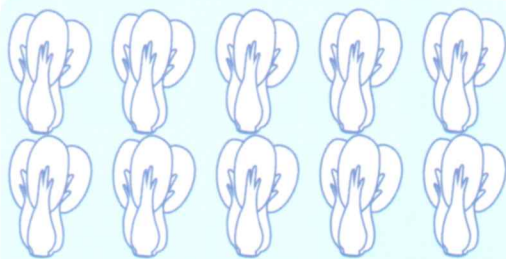
6




7



8



9



10

找出每只蘑菇上最大的数字吧!

10


7

5

9


8

6





勋章  
粘贴处

观察每行大桃子上的数字, 将它们按  
从小到大的顺序写在小桃子上吧!

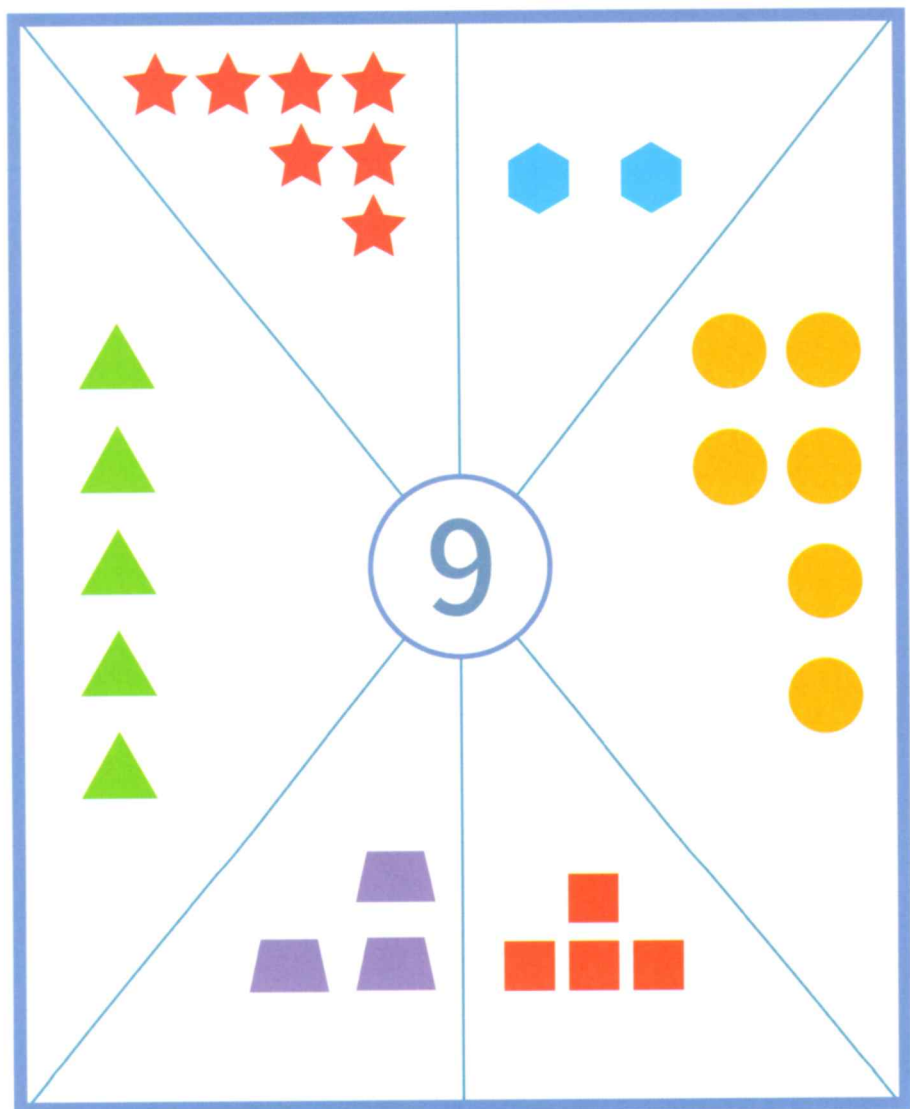


一共有10根胡萝卜，根据剩余的胡萝卜，  
猜一猜盒子里有多少根胡萝卜吧！





勋章  
粘贴处

下列每种图形应该都有九个哦,把少掉的图形补充上去吧!

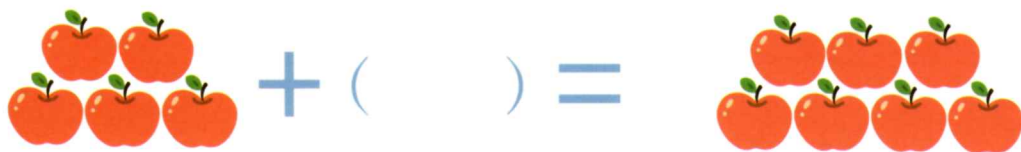

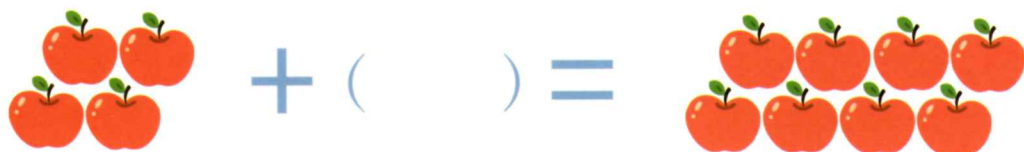

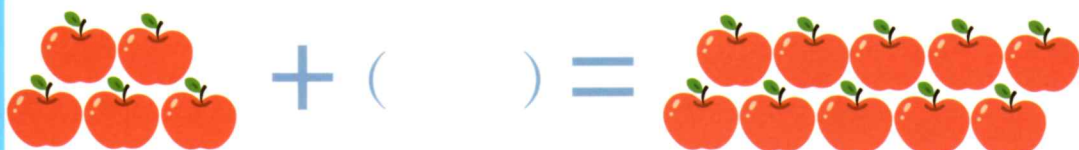


如果想要图中的等式成立,需要在括号里放入几只小蜜蜂呢?



勋章  
粘贴处

想想看括号里应该再画几个苹果,两边等式就能成立。



7


9

14

18

10

12



勋章  
粘贴处

按照数数的顺序,想一想每组中都少了数字几,  
把它写出来吧!

1		6
3	5	4
8	7	2

21	25	23
	20	26
22	24	27

	17	18	
	11	16	
12		13	15

根据数量排序,判断空格  
位置应填入的数字吧!

3

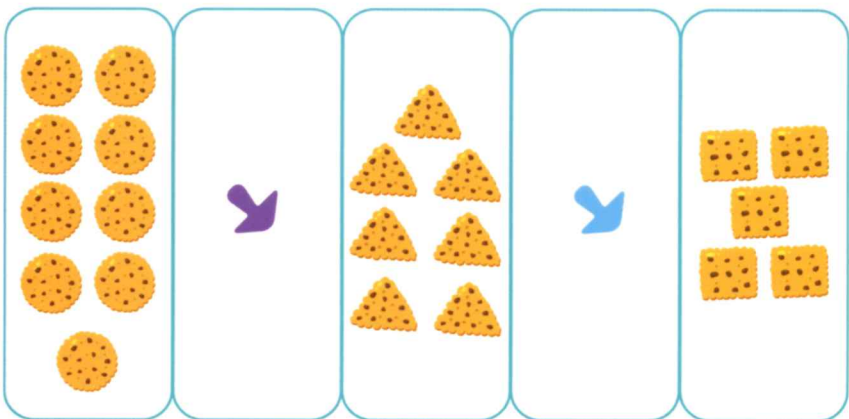
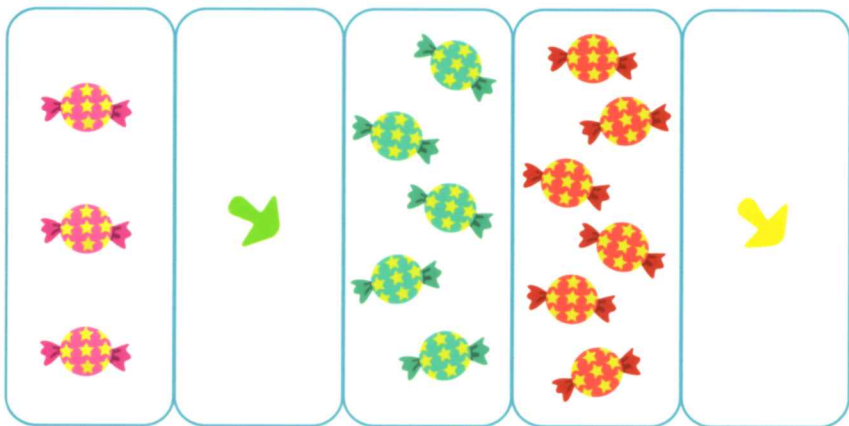
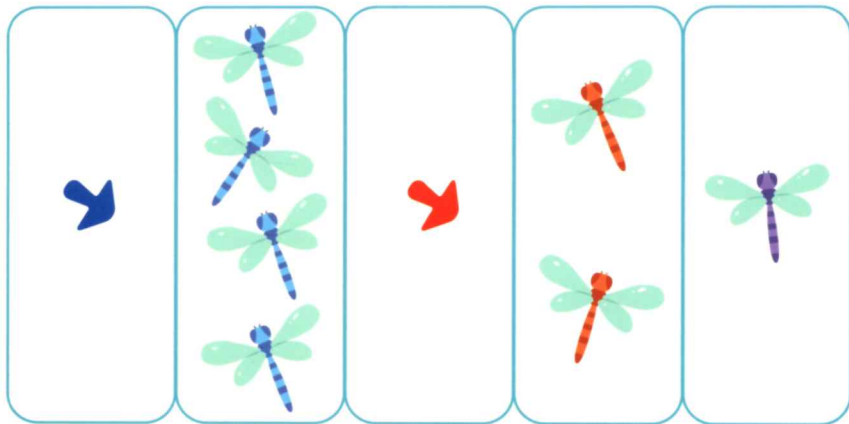
4

5

6

7

8



勋章  
粘贴处

观察数的规律,在空格处填上适当的数。






2

3

4

5

6



4

5

6

7



7

8

9

10

11



4



6

7

8

10

9

8

7

6



15


14



12

11

根据花盆上的算式，  
种上相应数量的花。



勋章  
粘贴处

请根据小卡片上的计算结果为  
每张卡片画上相同数量的○吧!

$7+2$

$7+4$


$6+4$

$8+3$

$3+9$

$5+5$

看一看每棵树上还剩下几个苹果吧!



5

4

6

7

3

2



勋章  
粘贴处

10只小螃蟹在海边玩,每次涨潮都会带走1只螃蟹,  
算一算每次有几只螃蟹留下,并写在括号里吧!



$10 - 1 = ( \quad )$



$9 - 1 = ( \quad )$



$8 - 1 = ( \quad )$



$7 - 1 = ( \quad )$



$6 - 1 = ( \quad )$



$5 - 1 = ( \quad )$



$4 - 1 = ( \quad )$



$3 - 1 = ( \quad )$



$2 - 1 = ( \quad )$



$1 - 1 = ( \quad )$




你知道怎么平分这些食物吗？  
在右边找出对应的算式吧！



$1+1$



$2+2$



$3+3$



$4+4$



$5+5$




$6+6$

勋章  
粘贴处


将图中物品平分后,每份物品的数量为多少呢?  
把数字填在对应括号里吧!




( )



( )



( )







( )



( )

数一数，镜子内外的蔬菜或水果加起来，  
分别是多少呢？



2

4

6

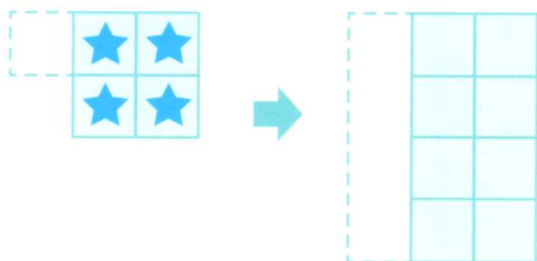
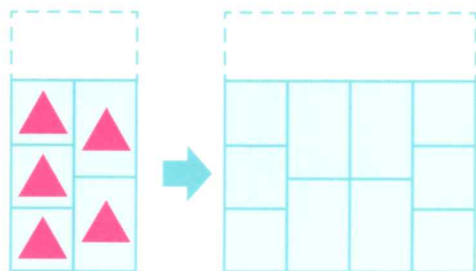
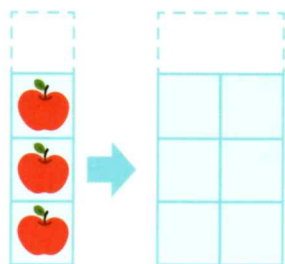
8

10

12

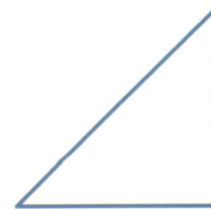
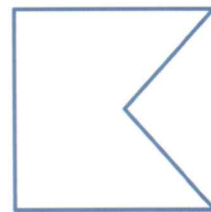
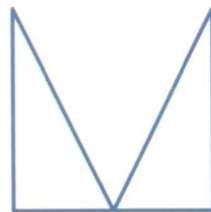
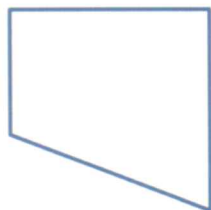


勋章  
粘贴处

盒子里的东西经过魔术箱后数量都会加倍。图中物品经过魔术箱数量会变多少呢？把它们写上数字并画出来吧！



1

## 图形&amp;方位

找一找左边的图形分别和右边  
哪个图形能合成正方形吧!

勋章  
粘贴处

圆圈里的两个图案,能组成什么的图形呢?  
给能组合的图案打勾吧。

提示:图形可以旋转方向,也可以重叠在一起哦。




( )




( )



( )



( )



( )



( )



( )

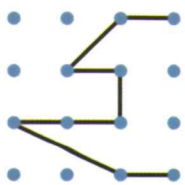
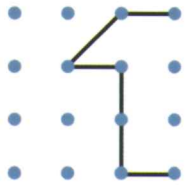
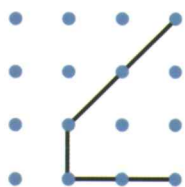
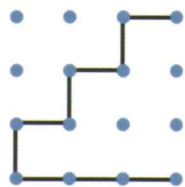
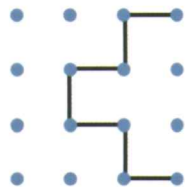
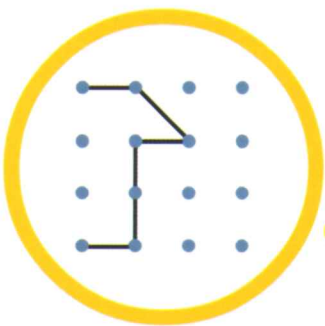
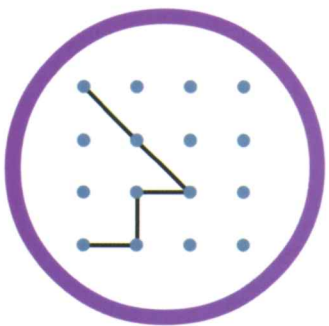
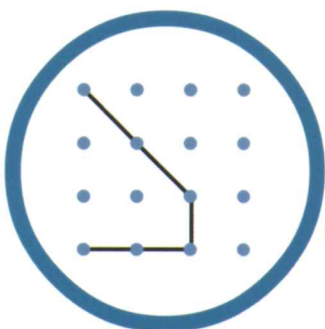
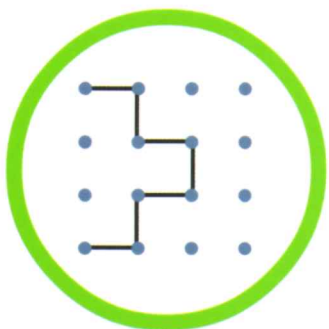
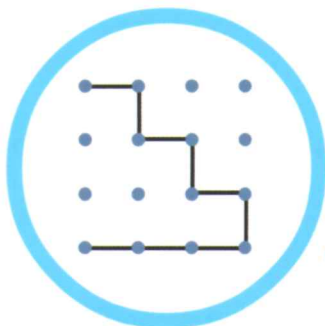
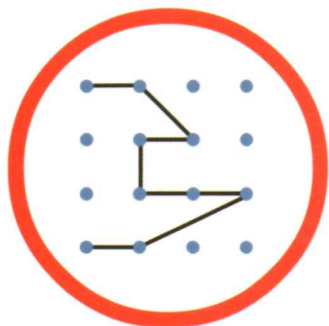


( )

# 2

## 图形&方位

左边的图形和右边哪个图形是相反的?请找一找吧!

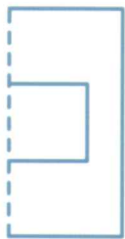
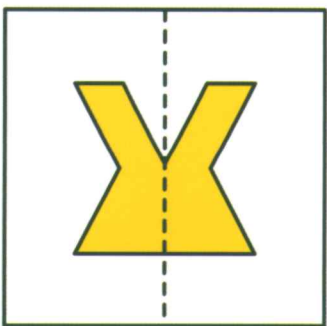
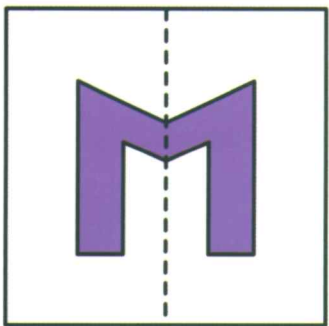
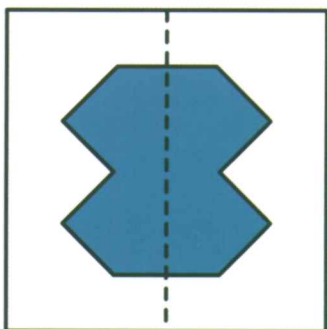
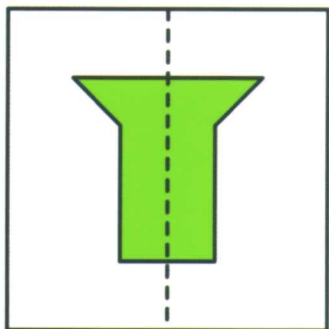
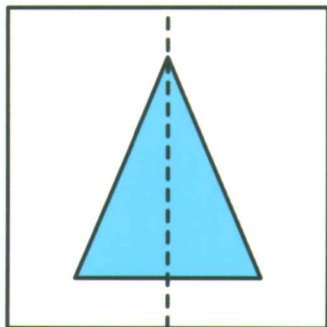
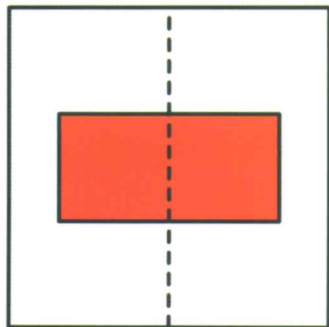


勋章  
粘贴处

请根据手掌的形状找出正确的手影吧。

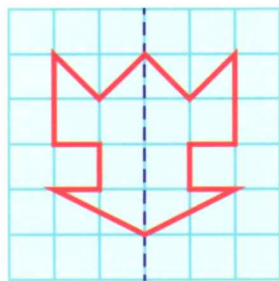

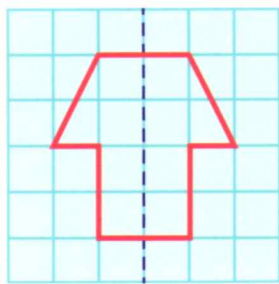

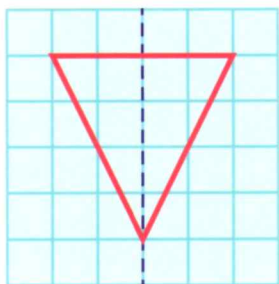

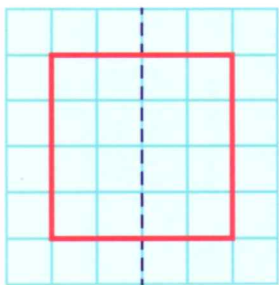


下面每张纸, 从左向右沿着虚线对折  
后是哪个图形? 请你在右边找出来吧!



勋章  
粘贴处

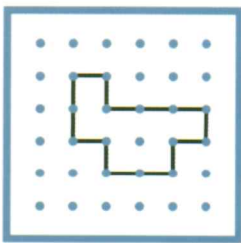
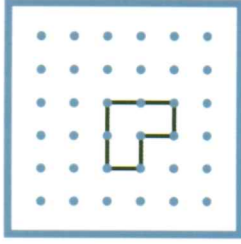
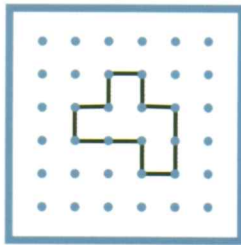
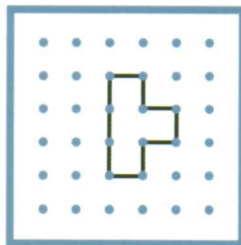
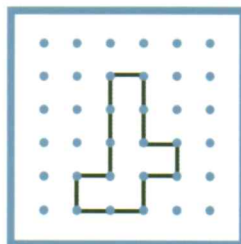
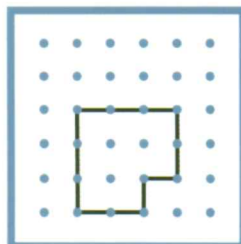
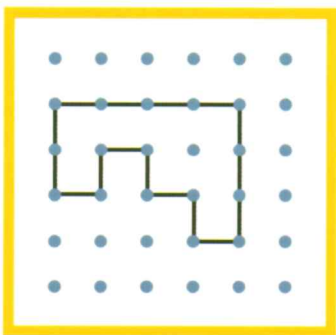
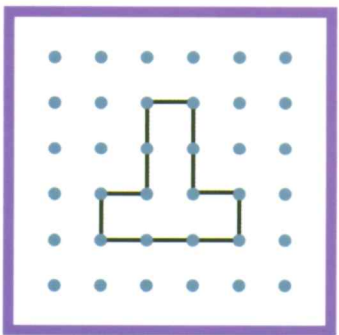

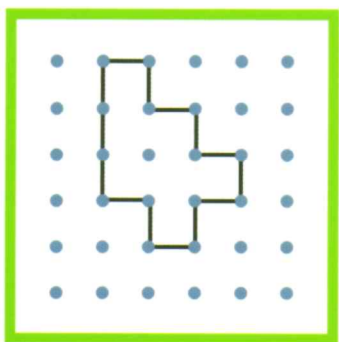
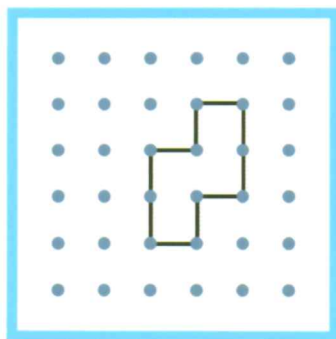

下面的每一张纸,从左向右沿着虚线对折后的图形是怎样的呢?动手画一画吧!



## 4









## 图形&amp;方位

左边的图形和右边哪个图形  
面积相同呢?请找一找吧!



勋章  
粘贴处

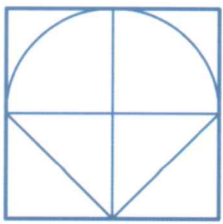



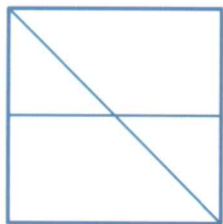


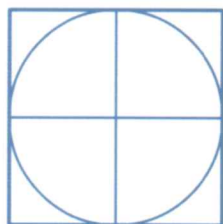
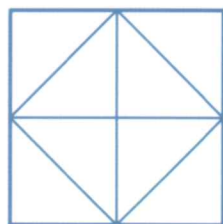

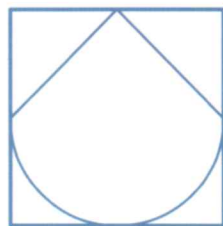

将左边和右边面积相同的图形连线吧!



## 5

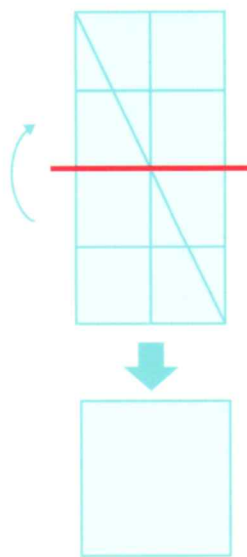
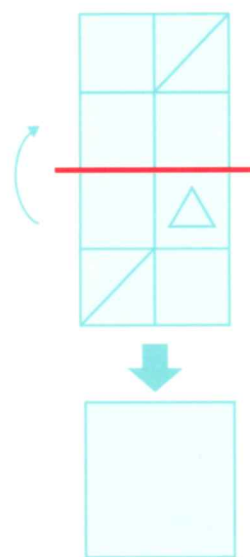
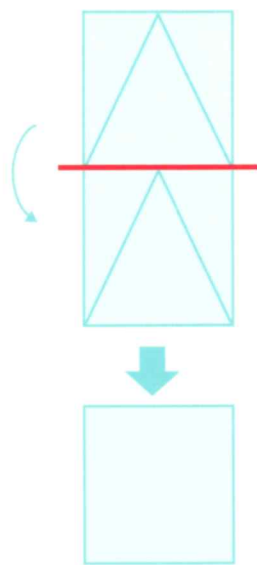
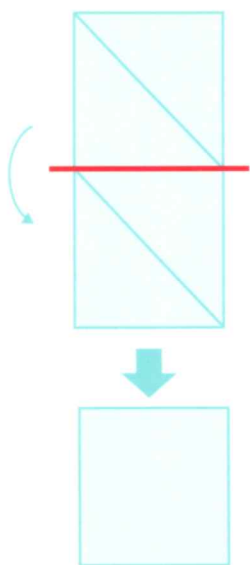
## 图形&amp;方位

下列每组的两个图形重叠以后会变成右边的哪个图形呢?请你找一找。





勋章  
粘贴处

上面两个图形对折后变成了什么图形,用笔来画一画吧!



在右边找到镜子里看到的图像吧!



勋章  
粘贴处

莎莎站在镜子前面,那么镜子里的莎莎会是图中的哪一个呢?  
圈出正确的答案吧!



7

## 图形&amp;方位

按从下到上的顺序将这些手帕  
排序吧,最下面的排1哦!



1

2

3

4


5

6



勋章  
粘贴处

找出位于最下方的图形。



在右边找出各位小伙伴的作品吧!

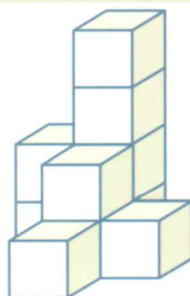
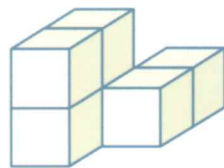
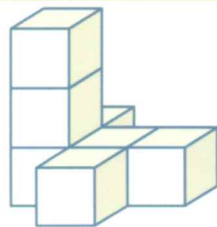
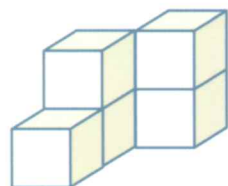
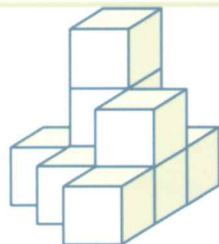
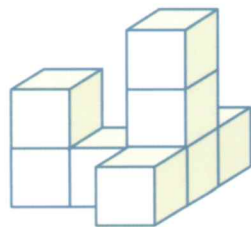






勋章  
粘贴处

四个小朋友画桌子上的玩具。下边的图分别是坐在哪个位置的小朋友画的?请用铅笔连线。









左边的积木和右边哪一组积木数量是相同的,动手找一找吧!








勋章  
粘贴处

下列哪些积木堆的积木数量和圈出的积木堆相同呢？  
把它们圈出来吧。


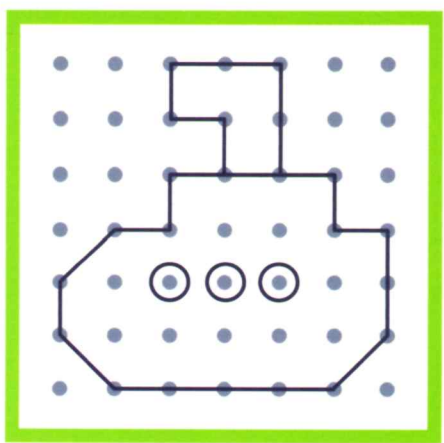

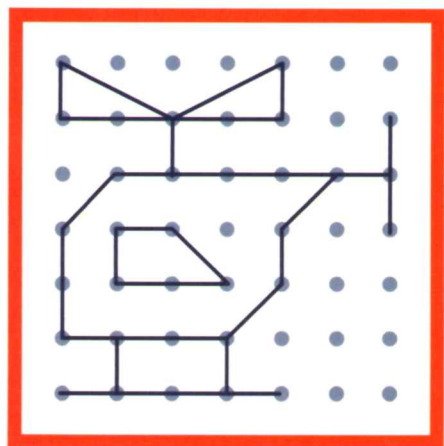


在右边找到拿掉蓝色积木后的形状吧!



勋章  
粘贴处

仿照左边的图形，在右边画出相同的图形吧。



1

推理&判断

根据数字的排列规律, 在右边找出每组缺少的数字吧!



3

8

10

11

19


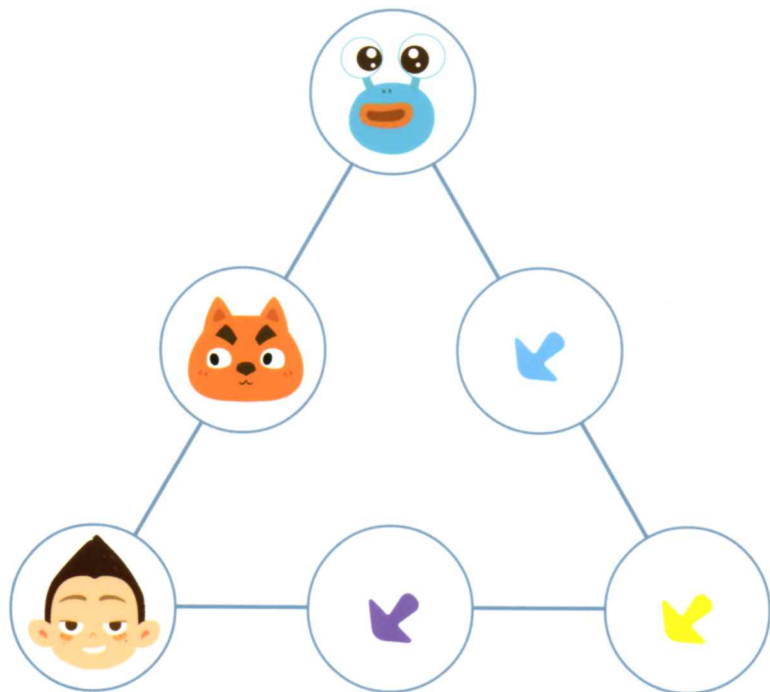
50

勋章  
粘贴处

下列哪组图形和动物的排列规律相同呢？  
找出来并在后面打勾。




下图中，每一排的人物或图形都不能重复。  
在右边找出合适的选项填入图中吧！



勋章  
粘贴处

按照图形排列规律,把空白处缺少的图形画出来!



3

## 推理&amp;判断

根据变化的规律,你能看出方框内的是几颗糖吗?在右边找出正确答案吧!

1



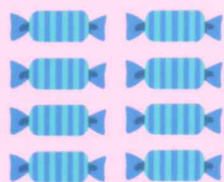
3

4

5



6

9



勋章  
粘贴处

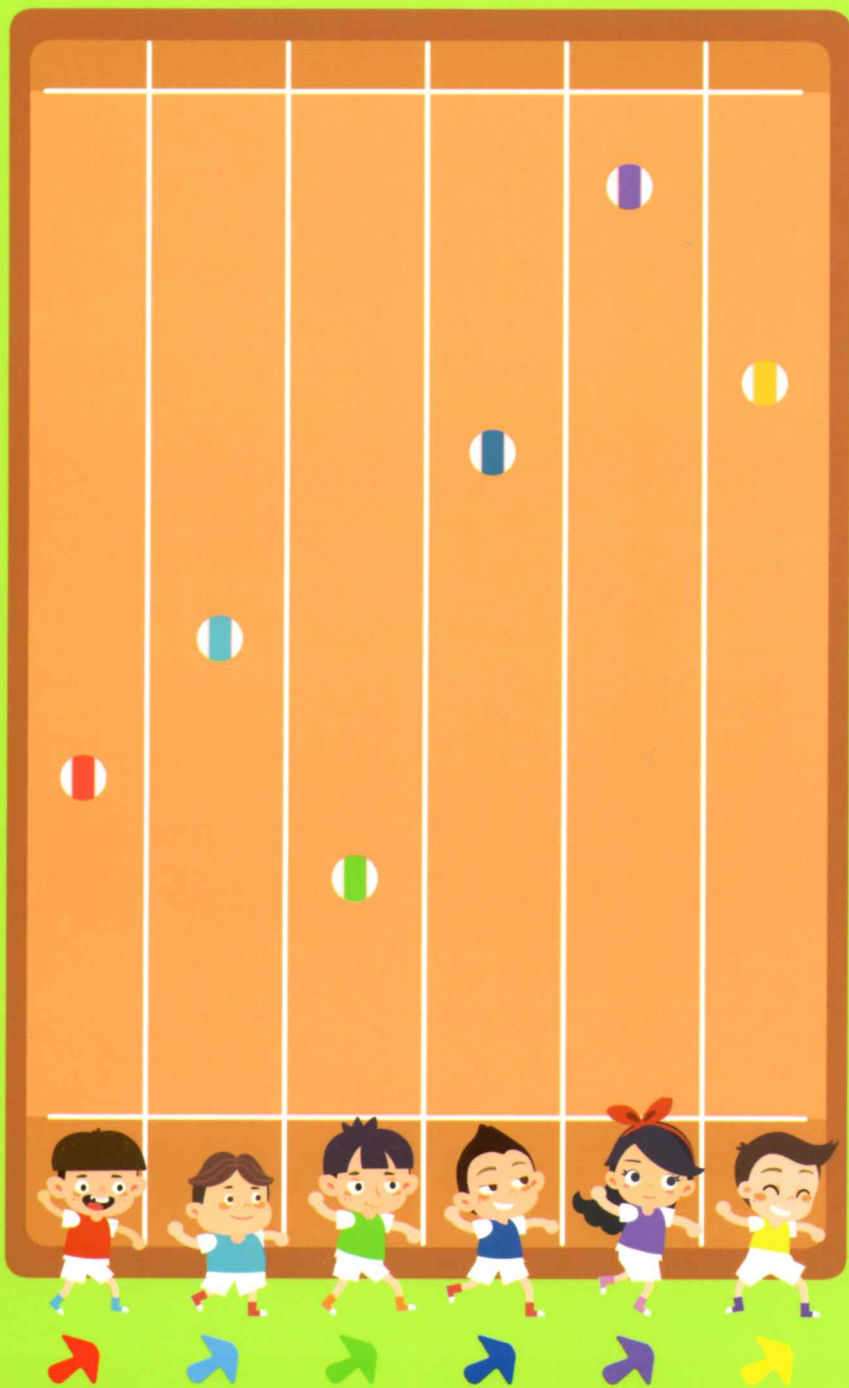
草莓在通过圆形时就会增加2个，通过正方形时就会减少1个。  
那么下图的草莓分别会变成多少颗呢？把结果画出来吧！



4

## 推理&amp;判断

排出下面抛球比赛的名次吧！  
球抛得最远的排1。



1

2

3

4

5

6

勋章  
粘贴处

小伙伴们去同一目的地,乘坐不同的交通工具同时出发。  
给最先到达的打√,给最迟到达的打×。



( )



( )



( )



( )






( )



( )

用水果刀切开图中的水果,会变成什么样子呢?在右边找出来吧!





勋章  
粘贴处

这些蔬菜从中间切开会是什么样子呢？  
把它们和切开的样子连线吧！



我们能从下图中的动植物身上得到什么呢?在右边找出对应的物品吧!



勋章  
粘贴处

左列的物品都是由右列哪个物品加工出来的呢？  
把它们连起来。






7

## 推理&amp;判断



观察每行中前两张图片的关系，  
在右边找出每组匹配的选项吧！

勋章  
粘贴处

根据每组图片之间的关系,画出空白位置的图形吧!



在右边找出和左边图画关联的场景吧!

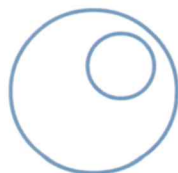



勋章  
粘贴处

观察左边的物品,在右边找出有联系的图片吧!  
用线连起来哦!



下图每组中哪个图形不是同一类的呢？  
在右边找出来吧！



勋章  
粘贴处

找一找每组中哪个图形不是同一类,把它圈出来。

(1) A B C D E

(2) 

(3) 

(4) 

(5) 

如果遇到下面这些事情，每个人的表情会是怎样的？在右边选出来吧！



勋章  
粘贴处

按照示例图片之间的关系,在空白处选出正确的选项吧。



对于



就像



对于\_\_\_\_\_。

A.



B.



C.



D.



对于



就像



对于\_\_\_\_\_。

A.



B.



C.



D.



## 1

## 时间&amp;排序

这些动物闹钟分别代表着几点呢？  
在右边找出对应的时间吧！



3:00

7:00

1:00

12:00

10:00


4:00

勋章  
粘贴处

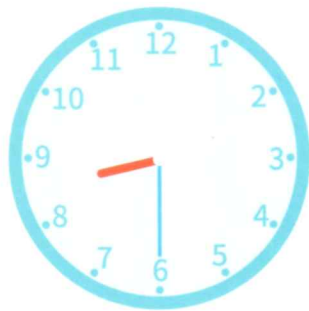
每个钟表上表示的时间都是几点几分呢？  
你能把时间记录下来吗？




\_\_\_\_ : \_\_\_\_



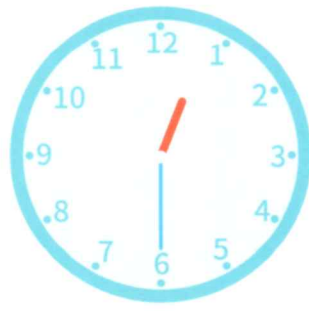
\_\_\_\_ : \_\_\_\_




\_\_\_\_ : \_\_\_\_



\_\_\_\_ : \_\_\_\_



\_\_\_\_ : \_\_\_\_



\_\_\_\_ : \_\_\_\_

2

## 时间&amp;排序

按照时间顺序,为小Q和淘淘经过的地点排个序吧!最早经过的地点排1。

1

2

3

4


5

6



勋章  
粘贴处

莎莎和爸爸去动物园参观，观察钟表，  
按照时间顺序画出他们的路线吧！



2018年1月

一	二	三	四	五	六	日
1	2	3	4	5	6	7
8	9	10	11	12	13	14
15	16	17	18	19	20	21
22	23	24	25	26	27	28
29	30	31				



这是( )月的日历?



这个月一共有( )天?



这个月有( )个星期六?



如果我的生日是元旦后的第4天，那么我的生日是( )日?



这个月的第三个星期日是( )号?



如果今天是1月第2个星期五，那么明天是( )日?



1

4

5

13

21

31



勋章  
粘贴处

把日历上漏写的数字填上吧!

2018年6月



日	一	二	三	四	五	六
					1	<input type="text"/>
<input type="text"/>	4	5	<input type="text"/>	7	8	9
10	<input type="text"/>	12	13	14	<input type="text"/>	16
17	18	<input type="text"/>	20	21	<input type="text"/>	23
<input type="text"/>	25	26	<input type="text"/>	28	29	<input type="text"/>

将下图的行为和右边的  
天气状况或时间配对吧!






勋章  
粘贴处

把左右两边属于同一季节的图用线连起来吧!



你知道小蝌蚪是怎么变成小青蛙的吗？  
把生长的顺序排一下吧！



1

2

3

4

5

6

勋章  
粘贴处

观察植物的生长过程,用数字1-4为这个过程排序吧!



( )



( )



( )



( )

6

## 时间&amp;排序

观察图片，按照时间顺序，  
给小猴子吃桃子排个序吧！

1


2

3

4


5

6



勋章  
粘贴处

观察蜡烛的燃烧过程,用数字1-4为这个过程排序吧!



( )



( )



( )



( )

7

## 时间&amp;排序

按照时间顺序,给小火车过山洞排个序吧!



1

2

3

4

5

6

勋章  
粘贴处

根据逻辑关系,把下列每组过程排列下吧!  
在括号里填上序号哦!



( )



( )



( )



( )



( )



( )



( )

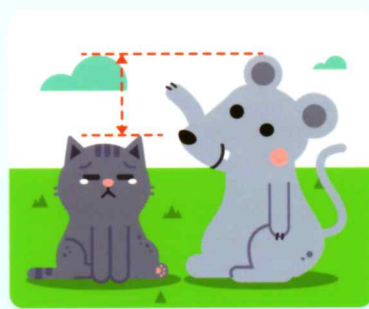




( )



( )

把下面的图片按事件发展顺序排序。



1

2

3

4

5

6

勋章  
粘贴处

为下面的图片排序,再按顺序讲一讲吧!



( )



( )



( )



( )

小朋友们带着面具去参加晚会，  
猜一猜他们都是哪位吧！



洋洋说：我是从左往右数第4个。

胖胖说：我是从右往左数第2个。

璐璐说：我的右边没人了。

琪琪说：我的左边没人了。

欣欣说：我在戴小猫面具的左边。

晨晨说：我在戴小鸭面具的左边。

勋章  
粘贴处

观察图形排列顺序,依次回答问题。




1.上图中一共有( )个图形。

2.从左边数,▲排在第( )个。

从右边数,●排在第( )个。

3.把左边4个图形圈起来。

小快递员Q淘兄弟要去送快递啦，  
找找看他们都去了谁的家吧！



我寄了一个包裹给朋友，他家住最下面一层的  
第一间屋子，他的家是101。



我寄了一个包裹给朋友，他家住最上面一层的  
第二间屋子，他的家是402。



我寄了一个包裹给朋友，他住在第二层最右  
边一间屋子。



我寄了一个包裹给朋友，我朋友家住在第三层  
最左边一间屋子。



我寄了一个包裹给朋友，他住在第三层，  
从左数第三间屋子。









我寄了一个包裹给朋友，他住在103。



勋章  
粘贴处

每个玩具都在哪个房间呢?在空白处写出房间号吧!



( 101 )



(      )



(      )



(      )



(      )



(      )